

«МОСКОВСКИЙ ТРЕТЬЕКЛАСНИК XXI ВЕКА»

Логин

Вариант 1

Выполняя задания, вы совершите путешествие по древней площади Москвы.

1. Рассмотрите схемы маршрутов.

Маршрут № 1



Маршрут № 2



Отметьте знаком **X** в поле ответов верное утверждение:

- 1) в маршруте № 2 длительность пешеходного пути больше;
- 2) в маршруте № 1 используется только наземный вид транспорта;
- 3) в маршруте № 2 используются все виды транспорта;
- 4) на маршрут № 1 тратится меньше времени, чем на маршрут № 2.

2. В 17 веке на этой площади размещались торговые ряды: Медовый, Овощной, Мыльный, Шапочный, Сапожный, Охотный и другие.

Отметьте знаком **X** в поле ответов старинные меры веса, которыми пользовались в Овощном ряду.

- 1) фунт;

- 2) килограмм;
 3) пуд;
 4) верста.

3. Здание Верхних торговых рядов построили на площади в 19 веке. В 1921 году в этом здании был открыт Главный Универсальный Магазин (ГУМ).

В ГУМе были разные отделы: школьные принадлежности, одежда, обувь, товары для дома, товары для рукоделия, мебель.


Рассмотрите вывески отделов магазина



1



2



3



4

Отметьте знаком **X** в поле ответов правильный вариант соответствия названия отдела и вывески:

- 1) одежда – **1**; товары для дома – **4**; мебель – **3**; школьные принадлежности – **2**.
- 2) товары для рукоделия – **1**; товары для дома – **2**; мебель – **3**; школьные принадлежности – **4**.
- 3) товары для рукоделия – **1**; мебель – **2**; товары для дома – **3**; школьные принадлежности – **4**.

4. При строительстве собора, расположенного на этой площади, в стены поместили «голосники» – глиняные сосуды для усиления звучания голоса. Отметьте знаком **X** современное устройство, которое усиливает звук.

1. 	2. 	3. 	4. 
<input type="checkbox"/>	<input type="checkbox"/>	<input type="checkbox"/>	<input checked="" type="checkbox"/>

5. Прочитайте текст.

В середине четырнадцатого века при князе Иване Калите были построены мощные дубовые стены крепости. В 1365 году они были уничтожены пожаром.

В том же веке, в княжение Дмитрия Донского, были выстроены новые стены из белого камня – известняка. Стены возводились грозные и неприступные.

В 15 веке взошел на княжение Иван III. Он пригласил из Италии лучших мастеров. Были возведены новые стены из красного кирпича. Крепостная стена и поныне стоит вокруг Кремля.

Рассмотрите таблицу.

Век	Правитель	Материал, из которого были изготовлены стены крепости
14 век	Иван Калита	дерево
14 век	Дмитрий Донской	?
15 век	Иван III	кирпич

Отметьте знаком **X** слово, пропущенное в таблице:

- 1) красный кирпич;
- 2) дуб;
- 3) известняк;

4) мрамор.

6. Ознакомьтесь с информацией об объектах на площади. Рассмотрите условное изображение объектов на рисунке.

Объект А. Спасская башня была сооружена при Иване III в 1491 году высотой 71 м.

Объект Б. Храм Василия Блаженного был построен в 1555–1561 годах. Высота собора ниже Спасской башни на 11 м.

Объект В. Угловая Арсенальная башня – самая мощная башня Московского Кремля. Ее высота достигает 61 м.




Рис. Высота объектов

Отметьте знаком **X** правильный порядок расположения объектов на рисунке в зависимости от их высоты.

- 1) **АБВ;**
- 2) **БВА;**
- 3) **АВБ;**
- 4) **БАВ.**

7. По шифру А4Б1В2 определите название объекта на этой площади.


	Объект	Название	Расположение объекта
	А	Б	В
1	башня	Государственный исторический	к югу от площади
2	памятник	Спасская	к северу от площади
3	собор	Минину и Пожарскому	восточная стена крепости

4	музей	Храм Василия Блаженного	рядом с Храмом Василия Блаженного
---	-------	-------------------------	-----------------------------------

Выполните задание по заданному алгоритму:

1	Откройте новую вкладку.
2	В адресной строке наберите: http://21vek.olimpiada.ru/3v
3	На открывшейся странице рассмотрите макет площади, запомните номер объекта, который нашли по шифру.
4	Вернитесь к вкладке олимпиады.


Картинка на 21vek.mosmetod.ru/one.html



Отметьте знаком **X** номер объекта, найденного на макете.

- 1
- 2
- 3
- 4



8. В старинных часах на Спасской башне вращались не стрелки, а циферблат. Неподвижной стрелкой был нижний луч «солнца». Циферблат вращался влево. От буквы до буквы проходил один час.



Какая буква окажется под стрелкой-лучом через три с половиной часа?
Отметьте знаком X правильный ответ.

- 1) З
- 2) И
- 3) А
- 4) ЗІ

9. Сравните фотографии, сделанные на площади в разные века.



Отметьте знаком **X** верные высказывания.

- 1) памятник перенесен на другое место;
- 2) на фотографиях есть Спасская башня Кремля;
- 3) на фотографии есть Государственный исторический музей;
- 4) на площади стояли фонарные столбы.

10. Отметьте в поле ответов знаком **X** последовательность движения на экскурсии по объектам Красной площади: Храм Василия Блаженного,

Спасская башня, Государственный исторический музей, Главный Универсальный Магазин (ГУМ).

1) 2, 3, 4, 5;

2) 2, 1, 3, 4;

3) 2, 1, 4, 3;

4) 6, 3, 4, 5.

