

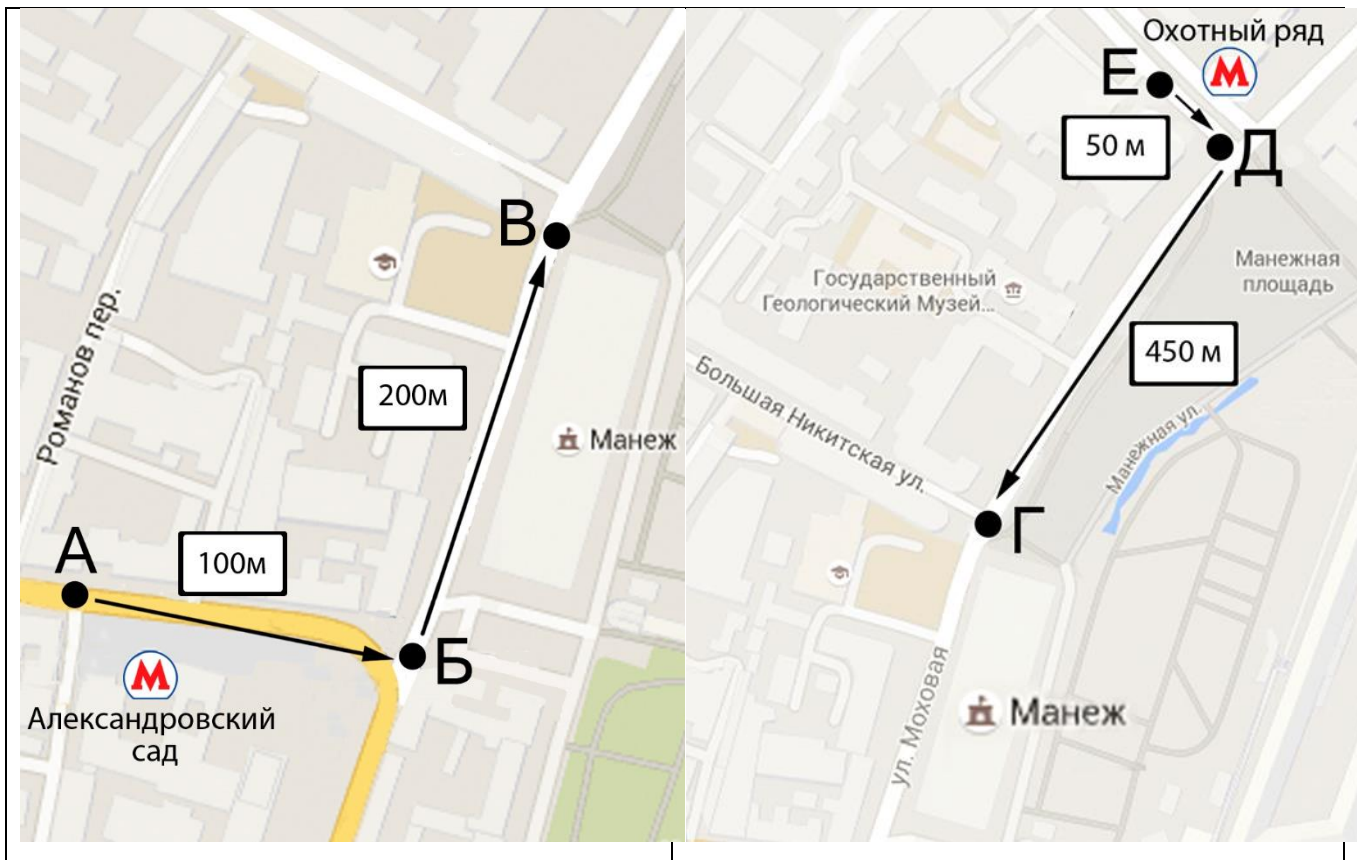
## «МОСКОВСКИЙ ВТОРОКЛАССНИК XXI ВЕКА»

Логин

Вариант 2

Выполняя задания, Вы совершите путешествие по одной из старейших площадей Москвы.

1. Рассмотрите схемы маршрутов.



Отметьте знаком **X** в поле ответов верные утверждения:

<input type="checkbox"/>	Длина пути от <b>Е</b> до <b>Д</b> равна длине от <b>А</b> до <b>Б</b> .
<input type="checkbox"/>	Длина пути от <b>А</b> до <b>Б</b> длиннее, чем длина пути от <b>Е</b> до <b>Д</b> .
<input type="checkbox"/>	Сумма длин от <b>Е</b> до <b>Д</b> и от <b>Д</b> до <b>Е</b> равна длине пути от <b>А</b> до <b>Б</b> .

2. Выполните задание по заданному алгоритму:

1	Откройте новую вкладку.
2	В адресной строке наберите: <a href="http://21vek.olimpiada.ru/2v2">http://21vek.olimpiada.ru/2v2</a>
3	На открывшейся странице вы увидите, как выглядел этот объект в 19 веке. Рассмотрите картину художника. Определите, что изображено в левой части картины.
4	Вернитесь к вкладке олимпиады.



2.1 Отметьте знаком X:

<input type="checkbox"/>	Стены и башни Московского Кремля
<input checked="" type="checkbox"/>	Здание Манежа
<input type="checkbox"/>	Главный Универсальный Магазин

3. Определите, для чего первоначально использовалось здание. Известно, что в 19 веке это здание называли «Домом для упражнений в строевой подготовке солдат. Здесь же поводились кавалерийские выезды». Отметьте верное утверждение знаком **X**:

<input type="checkbox"/>	для выставки лошадей
<input checked="" type="checkbox"/>	для тренировок в верховой езде
<input type="checkbox"/>	для разведения лошадей
<input type="checkbox"/>	для цирковых представлений

4. Рассмотрите картинки. Определите объект по его признакам:

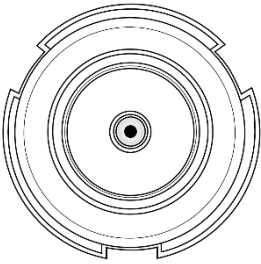
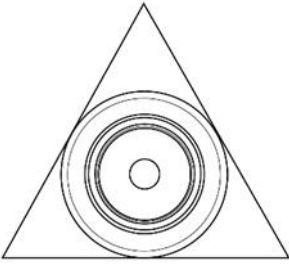
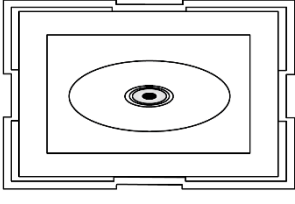
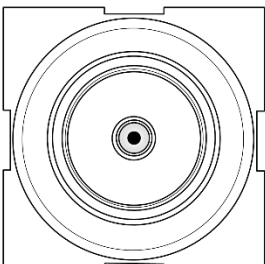
- сооружение для подачи и выбрасывания воды под напором;
- архитектурное сооружение для бьющих вверх или стекающих вниз струй воды. Отметьте его знаком **X**:



5. Рассмотрите фонтан «Часы мира».



5.1. Определите, какая схема-модель соответствует объекту, если смотреть на него сверху. Отметьте её знаком X:

			
<input checked="" type="checkbox"/>	<input type="checkbox"/>	<input type="checkbox"/>	<input type="checkbox"/>

6. Рассмотрите скульптуры, расположенные на этой площади. По описанию героя определите, о какой скульптуре идет речь. Отметьте её знаком X:



«Лиса и журавль»



«Царевна Лебедь»



«Царевна-лягушка»

«Маленькая голова с прямым, острым и копьевидным клювом. Длинные ноги помогают передвигаться по топким местам. Питается не только животной, но и растительной пищей».

7. По шифру **АЗБ2В1** определите место, где расположены эти объекты.

	Объект	Название	Расположение объекта
	А	Б	В
1	переулок	Тверская	рядом с Кремлем и Александровским садом
2	улица	Манежная	от Красной площади до Триумфальной площади
3	площадь	Цветной	между Петровской и Тверской площадями
4	бульвар	Столешников	от Трубной площади до Садового кольца

8. Наберите название площади, где расположены эти объекты, в текстовом поле компьютера.

## 9. Прочитайте текст.

История Манежной площади, которая находится в центре Москвы, насчитывает более 500 лет. На этом месте был торговый квартал, который появился в 15 веке. Здесь располагались Крупяной, Охотный, Капустный, Мясной и Обжорный ряды. В торговых лавках продавали разнообразные товары, произведенные ремесленниками.

В честь 5-летия победы России в Отечественной войне 1812 года было построено здание Манежа.

В 20 веке площадь переименовывали несколько раз, но в 1991 году ей вернули название Манежная.

### 9.1 Отметьте знаком **X** верные утверждения:

<input type="checkbox"/>	Площадь переименовывали меньше, чем два раза.
<input checked="" type="checkbox"/>	В торговых лавках продавали крупы, мясо и овощи.
<input checked="" type="checkbox"/>	Торговый квартал появился раньше 21 века.
<input checked="" type="checkbox"/>	Ремесленники производили товары.



10. Укажите знаком X верную последовательность объектов, с которыми вы познакомились во время путешествия по Манежной площади.

<input checked="" type="checkbox"/>	
<input type="checkbox"/>	
<input type="checkbox"/>	